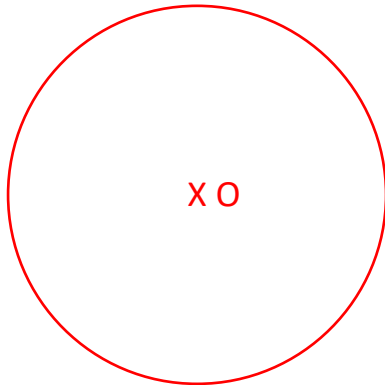


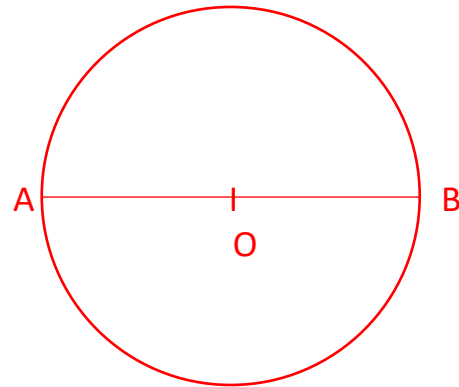
Tracer des cercles

1 Trace les cercles et les segments demandés

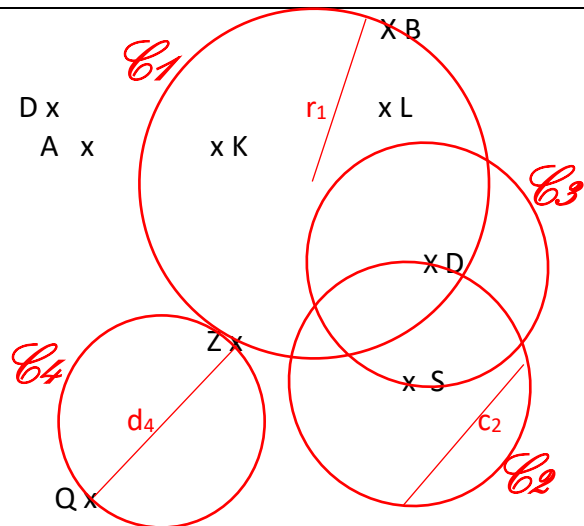
Trace un cercle de centre O et de rayon $r = 2\text{ cm } 5\text{ mm}$



Trace un cercle de centre O et de diamètre $[AB] = 5\text{ cm}$

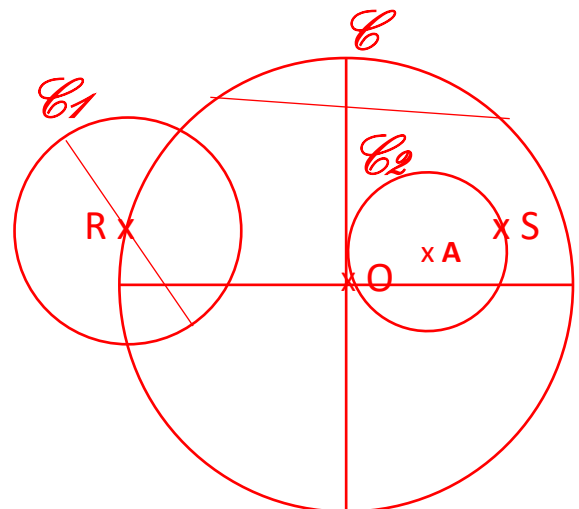


- Trace un cercle \mathcal{C}_1 de diamètre $[ZB]$
- Trace un cercle \mathcal{C}_2 de centre S et de rayon $[DS]$
- Trace un cercle \mathcal{C}_3 de centre D et de rayon $[DS]$
- Trace un cercle \mathcal{C}_4 de diamètre $[ZQ]$
- Trace un rayon r_1 du cercle \mathcal{C}_1
- Trace une corde c_2 du cercle \mathcal{C}_2
- Trace un diamètre d_4 du cercle \mathcal{C}_4



Trace ce programme de construction (réponses multiples pour 2/3/4/5/6 et 7)

- Trace un cercle \mathcal{C} de centre O et de diamètre 6 cm.
- Place un point R tel que $R \in \mathcal{C}$
- Trace un cercle \mathcal{C}_1 de centre R et de diamètre 3 cm.
- Place un point S qui appartient au disque limité par le cercle \mathcal{C}
- Trace un cercle \mathcal{C}_2 de diamètre $[OS]$.
- Trace une corde du Cercle \mathcal{C}
- Trace un diamètre du cercle \mathcal{C}_1
- Place A, le centre du cercle \mathcal{C}_2



Ce document PDF gratuit à imprimer est issu de la page :

- [Evaluations 7eme Harnos 7P Mathématiques : Géométrie Cercle et disque - PDF à imprimer](#)

Le lien ci-dessous vous permet de télécharger cette évaluation avec un énoncé vierge

- [Evaluation et bilan avec le corrigé sur tracer des cercles : 7ème Harnos](#)

Découvrez d'autres évaluations en : 7eme Harnos 7P Mathématiques : Géométrie Cercle et disque

- [Evaluation avec le corrigé sur le vocabulaire relatif aux cercles - Bilan à imprimer : 7ème Harnos](#)
- [Tracer des cercles et connaître leur vocabulaire - Évaluation de géométrie : 7ème Harnos](#)
- [Tracer des cercles - Évaluation, bilan : 7ème Harnos](#)
- [Vocabulaire relatif aux cercles - Évaluation, bilan : 7ème Harnos](#)
- [Cercle - Bilan à imprimer : 7ème Harnos](#)

Les évaluations des catégories suivantes pourraient également vous intéresser :

- [Evaluations 7eme Harnos 7P Mathématiques : Géométrie Agrandissement, réduction - PDF à imprimer](#)
- [Evaluations 7eme Harnos 7P Mathématiques : Géométrie Côté, sommet, angle - PDF à imprimer](#)
- [Evaluations 7eme Harnos 7P Mathématiques : Géométrie Droites parallèles - PDF à imprimer](#)
- [Evaluations 7eme Harnos 7P Mathématiques : Géométrie Droites perpendiculaires - PDF à imprimer](#)
- [Evaluations 7eme Harnos 7P Mathématiques : Géométrie Polygones - PDF à imprimer](#)

Besoin d'approfondir en : 7eme Harnos 7P Mathématiques : Géométrie Cercle et disque

- [Leçons 7eme Harnos 7P Mathématiques : Géométrie Cercle et disque](#)
- [Exercices 7eme Harnos 7P Mathématiques : Géométrie Cercle et disque](#)
- [Evaluations / compétences 7eme Harnos 7P Mathématiques : Géométrie Cercle et disque](#)
- [Evaluations / QCM QUIZ 7eme Harnos 7P Mathématiques : Géométrie Cercle et disque](#)
- [Vidéos pédagogiques 7eme Harnos 7P Mathématiques : Géométrie Cercle et disque](#)