

Chapitre 12 : Les figures usuelles

Évaluation 6 : Le parallélogramme : Corrigé

Compétences évaluées	Maîtrise insuffisante	Maîtrise fragile	Maîtrise satisfaisante	Très bonne maîtrise
Première approche du parallélogramme				
Construire un parallélogramme				

Exercice N°1

Donner la définition d'un parallélogramme.

Un parallélogramme est un quadrilatère dont les côtés opposés sont parallèles.

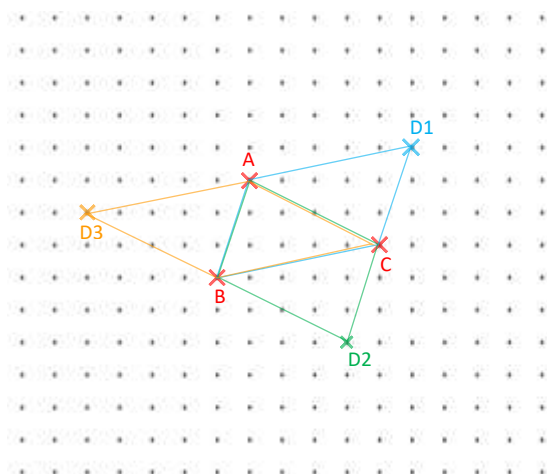
Exercice N°2

Dire si les phrases suivantes sont vraies ou fausses.

- Un rectangle est un parallélogramme. **VRAI**
- Un parallélogramme est un losange. **FAUX**
- Un triangle est un parallélogramme. **FAUX**
- Un carré est un parallélogramme. **VRAI**

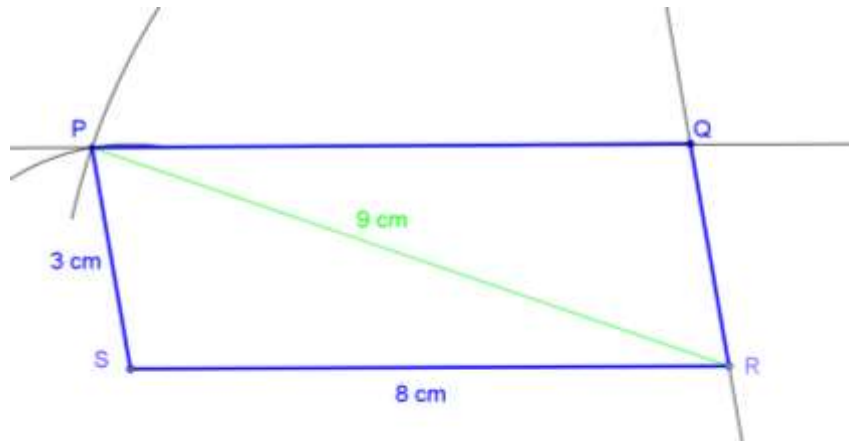
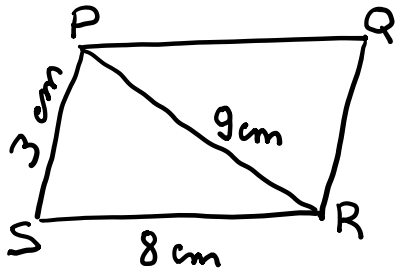
Exercice N°3

Sur papier quadrillé, on place trois points A, B et C. Construire les parallélogrammes qui ont pour sommets A, B et C.



Exercice N°4

Construire en vraie grandeur, ce parallélogramme tracé à main levée.

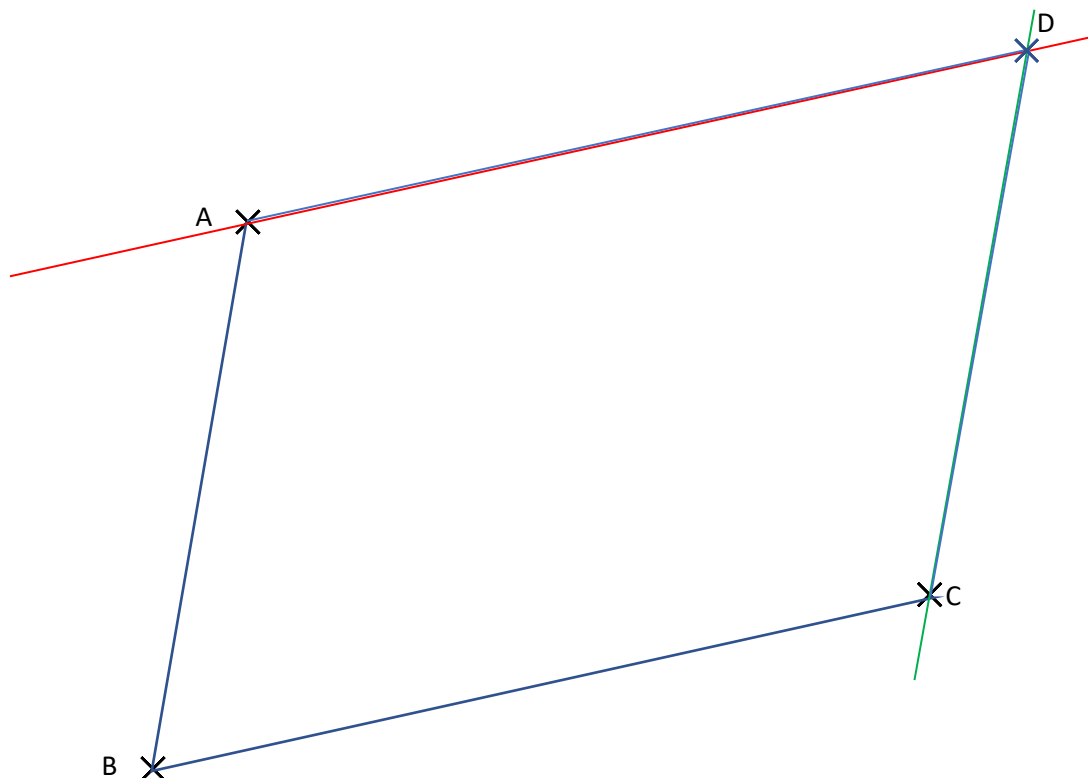


Exercice N°5

À l'aide de la règle et de l'équerre, placer le point D pour que le quadrilatère ABCD soit un parallélogramme.

À l'aide de l'équerre et de la règle, on trace la parallèle au segment [AB] passant par C puis la parallèle au segment [BC] passant par A.

À l'intersection des parallèles, placer le point D. Tracer ensuite le parallélogramme ABCD.



Ce document PDF gratuit à imprimer est issu de la page :

- [Evaluations 8eme Harnos 8P Mathématiques : Géométrie Les parallélogrammes - PDF à imprimer](#)

Le lien ci-dessous vous permet de télécharger cette évaluation avec un énoncé vierge

- [Le parallélogramme - Examen Evaluation avec la correction sur les figures usuelles : 8ème Harnos](#)

Les évaluations des catégories suivantes pourraient également vous intéresser :

- [Evaluations 8eme Harnos 8P Mathématiques : Géométrie Cercle et disque - PDF à imprimer](#)
- [Evaluations 8eme Harnos 8P Mathématiques : Géométrie Droites parallèles - PDF à imprimer](#)
- [Evaluations 8eme Harnos 8P Mathématiques : Géométrie Droites perpendiculaires - PDF à imprimer](#)
- [Evaluations 8eme Harnos 8P Mathématiques : Géométrie Les volumes - PDF à imprimer](#)
- [Evaluations 8eme Harnos 8P Mathématiques : Géométrie Point, droite et segment - PDF à imprimer](#)

Besoin d'approfondir en : 8eme Harnos 8P Mathématiques : Géométrie Les parallélogrammes

- [Cours 8eme Harnos 8P Mathématiques : Géométrie Les parallélogrammes](#)
- [Exercices 8eme Harnos 8P Mathématiques : Géométrie Les parallélogrammes](#)
- [Vidéos pédagogiques 8eme Harnos 8P Mathématiques : Géométrie Les parallélogrammes](#)
- [Vidéos interactives 8eme Harnos 8P Mathématiques : Géométrie Les parallélogrammes](#)
- [Séquence / Fiche de prep 8eme Harnos 8P Mathématiques : Géométrie Les parallélogrammes](#)