



Géométrie : Identifier des triangles

Evaluation

Correction

Evaluation des compétences

Identifier des triangles.

A EA NA

1 Complète les phrases à trous avec les mots : rectangle, sommet, côtés, polygone et isocèle.

Les 3 traits droits qui forment un triangle s'appellent les **côtés**.

Un triangle avec un angle droit s'appelle un triangle **rectangle**.

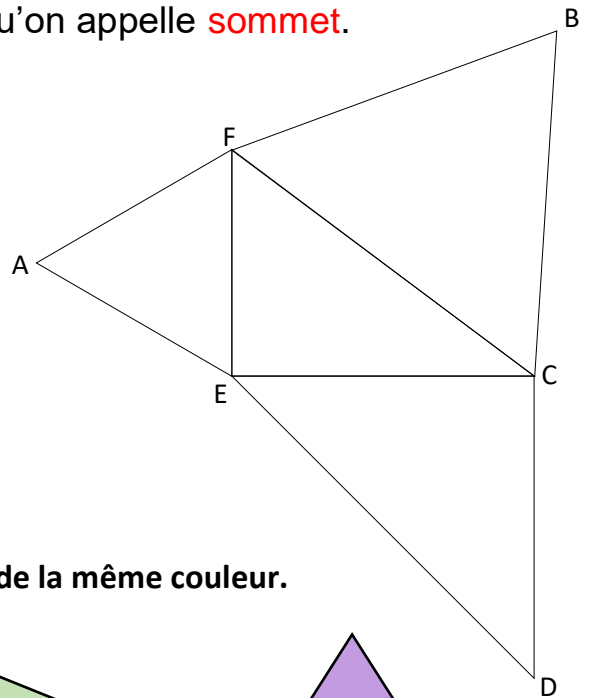
Un triangle est un **polygone** car c'est une figure fermée composée uniquement de lignes droites.

Un triangle avec 2 côtés égaux s'appelle un triangle **isocèle**.

2 côtés d'un triangle se rejoignent en un point qu'on appelle **sommet**.

2 Dans la figure, nomme les triangles :

Isocèle	BFC, ECD
Equilatéral	FAE
Rectangle	FEC, ECD




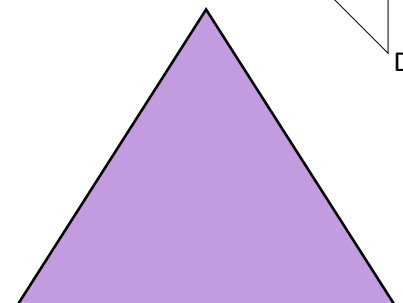
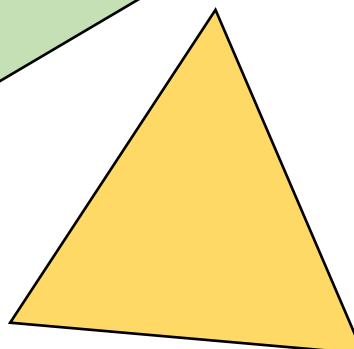
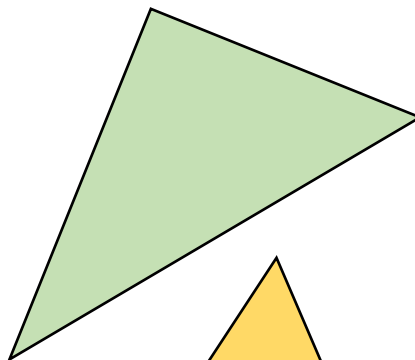
3 Associe la description au bon triangle en coloriant de la même couleur.

Je suis un triangle isocèle, 2 de mes côtés mesurent 5 cm.

Je suis un triangle quelconque.

Je suis un triangle rectangle.

Je suis un triangle isocèle, 1 de mes côtés mesurent 5 cm.



Ce document PDF gratuit à imprimer est issu de la page :

- [Evaluations 5eme Harnos 5P Mathématiques : Géométrie Les triangles - PDF à imprimer](#)

Le lien ci-dessous vous permet de télécharger cette évaluation avec un énoncé vierge

- [Identifier des triangles - Évaluation : 5ème Harnos](#)

Découvrez d'autres évaluations en : 5eme Harnos 5P Mathématiques : Géométrie Les triangles

- [Tracer un triangle rectangle - Examen Evaluation et bilan à imprimer avec le corrigé : 5ème Harnos](#)
- [Evaluation avec la correction - Identifier les triangles - Bilan à imprimer : 5ème Harnos](#)
- [Tracer un triangle rectangle ou un angle droit - Évaluation de géométrie : 5ème Harnos](#)
- [Identifier les triangles - Examen Evaluation avec la correction : 5ème Harnos](#)
- [Tracer un triangle rectangle - Évaluation, bilan : 5ème Harnos](#)

Les évaluations des catégories suivantes pourraient également vous intéresser :

- [Evaluations 5eme Harnos 5P Mathématiques : Géométrie Cercle et disque - PDF à imprimer](#)
- [Evaluations 5eme Harnos 5P Mathématiques : Géométrie Côté, sommet, angle - PDF à imprimer](#)
- [Evaluations 5eme Harnos 5P Mathématiques : Géométrie Point, droite et segment - PDF à imprimer](#)
- [Evaluations 5eme Harnos 5P Mathématiques : Géométrie Polygones - PDF à imprimer](#)
- [Evaluations 5eme Harnos 5P Mathématiques : Géométrie Quadrilatères - PDF à imprimer](#)

Besoin d'approfondir en : 5eme Harnos 5P Mathématiques : Géométrie Les triangles

- [Leçons 5eme Harnos 5P Mathématiques : Géométrie Les triangles](#)
- [Exercices 5eme Harnos 5P Mathématiques : Géométrie Les triangles](#)
- [Evaluations / compétences 5eme Harnos 5P Mathématiques : Géométrie Les triangles](#)
- [Evaluations / QCM QUIZ 5eme Harnos 5P Mathématiques : Géométrie Les triangles](#)
- [Vidéos pédagogiques 5eme Harnos 5P Mathématiques : Géométrie Les triangles](#)