
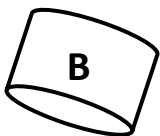
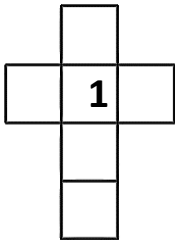
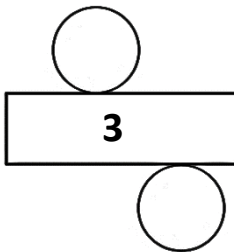
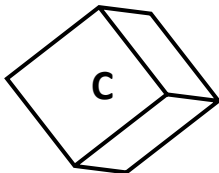

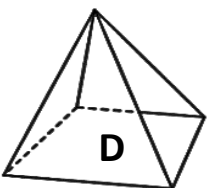
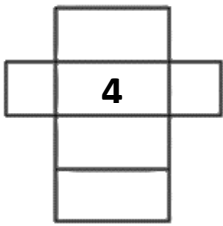
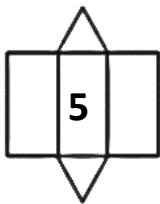
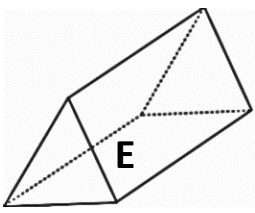


# Identifier quelques patrons de solides

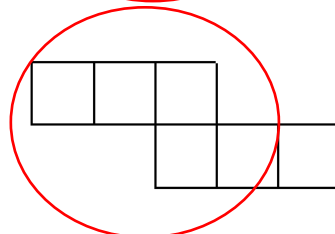
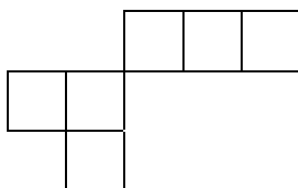
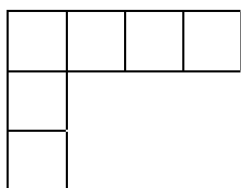
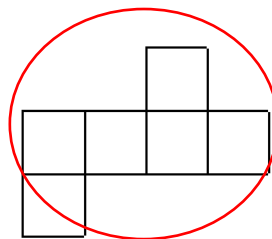
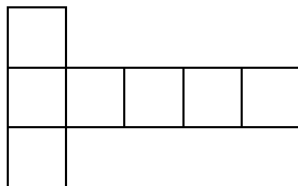
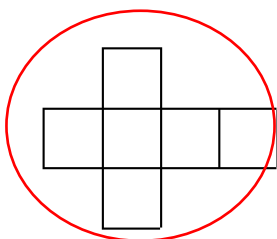
## 1 Complète ces propositions

- Un patron permet de reconstituer un **solide** en 3 **dimensions**.
- Un patron est constitué des **figures** représentées par ses **faces**.
- Le patron d'un cylindre est formé d'1 **rectangle** et de 2 disques.
- Le patron d'une **pyramide** à base carrée est constitué d'un **carré** et de 4 triangles.

## 2 Complète le tableau en utilisant les lettres et les chiffres des figures ci-dessous

				
				
<b>Prisme E</b>	<b>Cube C</b>	<b>Pavé droit A</b>	<b>Cylindre B</b>	<b>Pyramide D</b>
<b>5</b>	<b>1</b>	<b>4</b>	<b>3</b>	<b>2</b>

## 3 Parmi ces patrons, entoure ceux du cube



Ce document PDF gratuit à imprimer est issu de la page :

- [Evaluations 7eme Harnos 7P Mathématiques : Géométrie Solides et patrons - PDF à imprimer](#)

Le lien ci-dessous vous permet de télécharger cette évaluation avec un énoncé vierge

- [Evaluation avec le corrigé - Identifier les patrons de solides - Bilan à imprimer : 7ème Harnos](#)

Découvrez d'autres évaluations en : 7eme Harnos 7P Mathématiques : Géométrie Solides et patrons

- [Evaluation avec le corrigé - Reconnaître et décrire les solides - Bilan à imprimer : 7ème Harnos](#)
- [Identifier et construire des patrons de solides - Évaluation de géométrie : 7ème Harnos](#)
- [Identifier et décrire des solides - Évaluation de géométrie : 7ème Harnos](#)
- [Décrire et reconnaître des solides - Évaluation, bilan : 7ème Harnos](#)
- [Identifier les patrons de solides - Évaluation, bilan : 7ème Harnos](#)

Les évaluations des catégories suivantes pourraient également vous intéresser :

- [Evaluations 7eme Harnos 7P Mathématiques : Géométrie Agrandissement, réduction - PDF à imprimer](#)
- [Evaluations 7eme Harnos 7P Mathématiques : Géométrie Cercle et disque - PDF à imprimer](#)
- [Evaluations 7eme Harnos 7P Mathématiques : Géométrie Côté, sommet, angle - PDF à imprimer](#)
- [Evaluations 7eme Harnos 7P Mathématiques : Géométrie Droites parallèles - PDF à imprimer](#)
- [Evaluations 7eme Harnos 7P Mathématiques : Géométrie Droites perpendiculaires - PDF à imprimer](#)

Besoin d'approfondir en : 7eme Harnos 7P Mathématiques : Géométrie Solides et patrons

- [Leçons 7eme Harnos 7P Mathématiques : Géométrie Solides et patrons](#)
- [Exercices 7eme Harnos 7P Mathématiques : Géométrie Solides et patrons](#)
- [Evaluations / compétences 7eme Harnos 7P Mathématiques : Géométrie Solides et patrons](#)
- [Evaluations / QCM QUIZ 7eme Harnos 7P Mathématiques : Géométrie Solides et patrons](#)
- [Vidéos pédagogiques 7eme Harnos 7P Mathématiques : Géométrie Solides et patrons](#)