

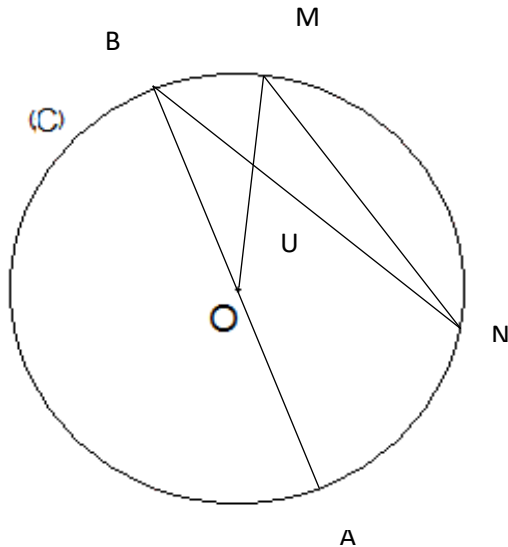


Géométrie : Tracer des cercles et connaître le vocabulaire.

Exercices

Correction

1 Observe la figure suivante. Raye et corrige ce qui est faux.



[NB] est une corde du cercle (C). **Vrai**

~~[NM] est un diamètre de (C)~~ **[NM] est une corde de (C)**

[BO] = [AO] = [OM]. **Vrai**

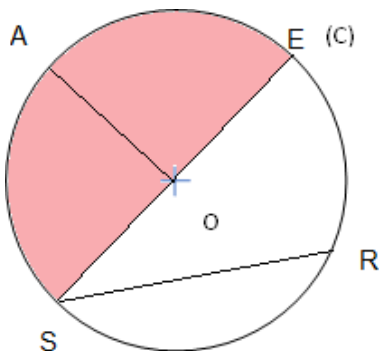
[OA] est un rayon du cercle (C). **Vrai**

Le cercle (C) a pour centre O. **Vrai**

~~[BA] est le rayon de (C)~~ **[BA] est un diamètre de (C)**

U intersection de [OM] et de [BN] se trouve sur le disque. **Vrai**

2 Voici un cercle (C) de centre O. Complète la figure selon les instructions.



- Place sur (C) la corde [RS].

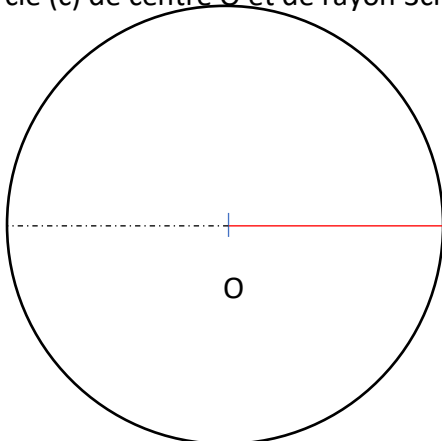
- Trace le diamètre [SE]

- Trace un rayon [OA]

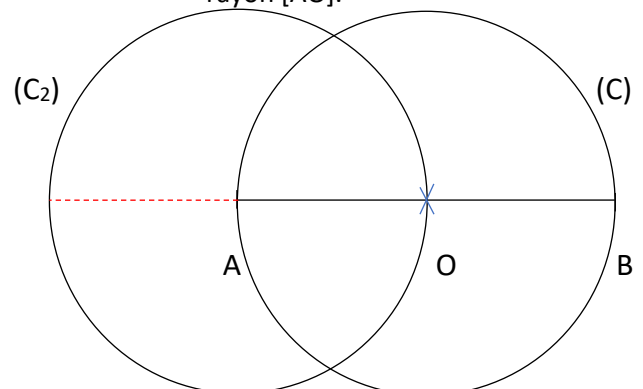
- Colorie un arc de cercle obtenu.

3 Trace :

Un cercle (c) de centre O et de rayon 3cm.



un segment [AB] de 5cm. Trace un cercle (C) de centre O et de diamètre [AB]. Trace un cercle (C₂) de centre A et de rayon [AO].



Ce document PDF gratuit à imprimer est issu de la page :

- [Exercices 7eme Harnos 7P Mathématiques : Géométrie Cercle et disque - PDF à imprimer](#)

Le lien ci-dessous vous permet de télécharger cet exercice avec un énoncé vierge

- [Tracer des cercles et connaître leur vocabulaire - Exercices de géométrie : 7ème Harnos](#)

Découvrez d'autres exercices en : 7eme Harnos 7P Mathématiques : Géométrie Cercle et disque

- [Tracer des cercles - Exercices, révisions : 7ème Harnos](#)
- [Vocabulaire relatif aux cercles - Exercices, révisions : 7ème Harnos](#)
- [Cercle - Diamètre, rayon, segment et point - Exercices à imprimer : 7ème Harnos](#)
- [Diamètre, rayon, segment et point - Exercices sur le cercle : 7ème Harnos](#)
- [Cercle - Disque - Sphère - Révisions avec correction : 7ème Harnos](#)

Les exercices des catégories suivantes pourraient également vous intéresser :

- [Exercices 7eme Harnos 7P Mathématiques : Géométrie Agrandissement, réduction - PDF à imprimer](#)
- [Exercices 7eme Harnos 7P Mathématiques : Géométrie Droites parallèles - PDF à imprimer](#)
- [Exercices 7eme Harnos 7P Mathématiques : Géométrie Droites perpendiculaires - PDF à imprimer](#)
- [Exercices 7eme Harnos 7P Mathématiques : Géométrie Les volumes - PDF à imprimer](#)
- [Exercices 7eme Harnos 7P Mathématiques : Géométrie Polygones - PDF à imprimer](#)

Besoin d'approfondir en : 7eme Harnos 7P Mathématiques : Géométrie Cercle et disque

- [Leçons 7eme Harnos 7P Mathématiques : Géométrie Cercle et disque](#)
- [Evaluations 7eme Harnos 7P Mathématiques : Géométrie Cercle et disque](#)
- [Evaluations / compétences 7eme Harnos 7P Mathématiques : Géométrie Cercle et disque](#)
- [Evaluations / QCM QUIZ 7eme Harnos 7P Mathématiques : Géométrie Cercle et disque](#)
- [Vidéos pédagogiques 7eme Harnos 7P Mathématiques : Géométrie Cercle et disque](#)