

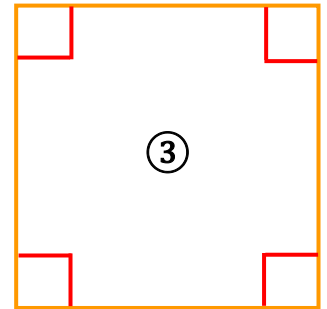
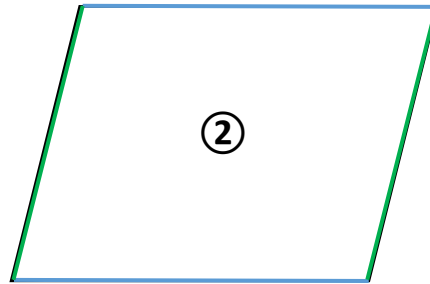



Géométrie : Quadrilatères : Identifier et décrire les carrés et les rectangles

Exercices

Correction

1) Pour chaque figure, repasse les côtés qui ont la même longueur de la même couleur. Puis, avec ton équerre, trouve les angles droits et marque-les.



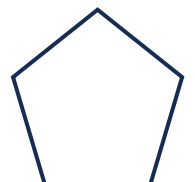








2) Complète le tableau par « oui » ou « non ».

	Je possède 4 angles droits.	Mes 4 côtés sont de la même longueur.
Figure ①	oui	non
Figure ②	non	non
Figure ③	oui	oui

3) Laquelle de ces figures est un rectangle ? La figure ① est un rectangle car elle possède 4 angles droits.

4) Laquelle de ces figures est un carré ? La figure ③ est un carré car elle possède 4 angles droits et 4 côtés de même longueur.

2) Marque d'une croix les figures qui ont 4 côtés (les quadrilatères) puis colorie en bleu les carrés et en jaune les rectangles.



Ce document PDF gratuit à imprimer est issu de la page :

- [Exercices 4eme Harnos 4P Mathématiques : Géométrie - PDF à imprimer](#)

Le lien ci-dessous vous permet de télécharger cet exercice avec un énoncé vierge

- [Identifier et décrire les carrés et les rectangles - Exercices sur les quadrilatères : 4ème Harnos](#)

Découvrez d'autres exercices en : 4eme Harnos 4P Mathématiques : Géométrie

- [Se repérer sur les nœuds et les cases d'un quadrillage - Exercices de géométrie : 4ème Harnos](#)
- [Vocabulaire des solides - Fiches Le cube et le pavé droit - Exercices de géométrie : 4ème Harnos](#)
- [Reconnaitre l'angle droit à l'aide de l'équerre - Exercices de géométrie : 4ème Harnos](#)
- [Tracer un triangle - Exercices de géométrie : 4ème Harnos](#)
- [Utiliser un outil de tracé, la règle - Exercices : 4ème Harnos](#)

Les exercices des catégories suivantes pourraient également vous intéresser :

- [Exercices 4eme Harnos 4P Mathématiques : Géométrie Cercle et disque - PDF à imprimer](#)
- [Exercices 4eme Harnos 4P Mathématiques : Géométrie Côté, sommet, angle - PDF à imprimer](#)
- [Exercices 4eme Harnos 4P Mathématiques : Géométrie Point, droite et segment - PDF à imprimer](#)
- [Exercices 4eme Harnos 4P Mathématiques : Géométrie Polygones - PDF à imprimer](#)
- [Exercices 4eme Harnos 4P Mathématiques : Géométrie Quadrilatères - PDF à imprimer](#)

Besoin d'approfondir en : 4eme Harnos 4P Mathématiques : Géométrie

- [Leçons 4eme Harnos 4P Mathématiques : Géométrie](#)
- [Evaluations 4eme Harnos 4P Mathématiques : Géométrie](#)
- [Evaluations / compétences 4eme Harnos 4P Mathématiques : Géométrie](#)
- [Evaluations / QCM QUIZ 4eme Harnos 4P Mathématiques : Géométrie](#)
- [Vidéos pédagogiques 4eme Harnos 4P Mathématiques : Géométrie](#)