

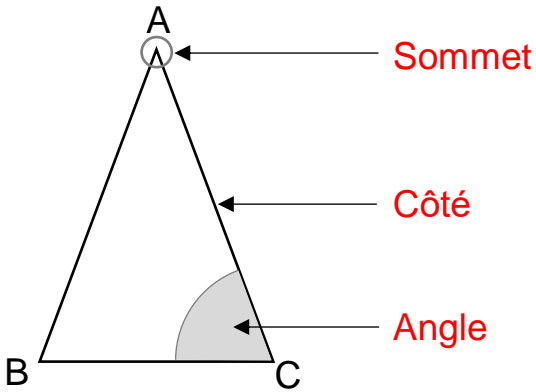


Géométrie : Identifier des triangles

Exercices

Correction

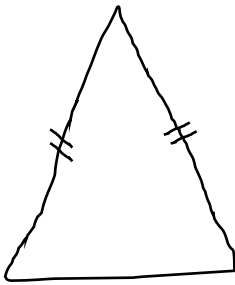
1 Complète le texte et la légende.



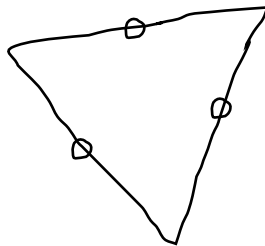
Le triangle **ABC** est un triangle **isocèle** car les côtés **[AB]** et **[BC]** sont de la même longueur.

Cite une autre façon de nommer le triangle **ABC** : **BAC**

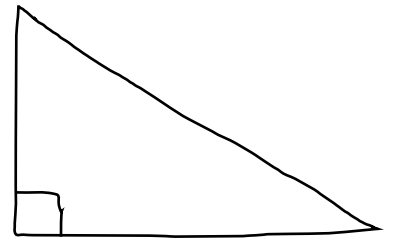
2 Observe les figures dessinées à main levée. Puis en te servant uniquement des indications, indique le nom de chaque triangle en justifiant ta réponse.



C'est un triangle **isocèle** car il a **2 côtés égaux**.

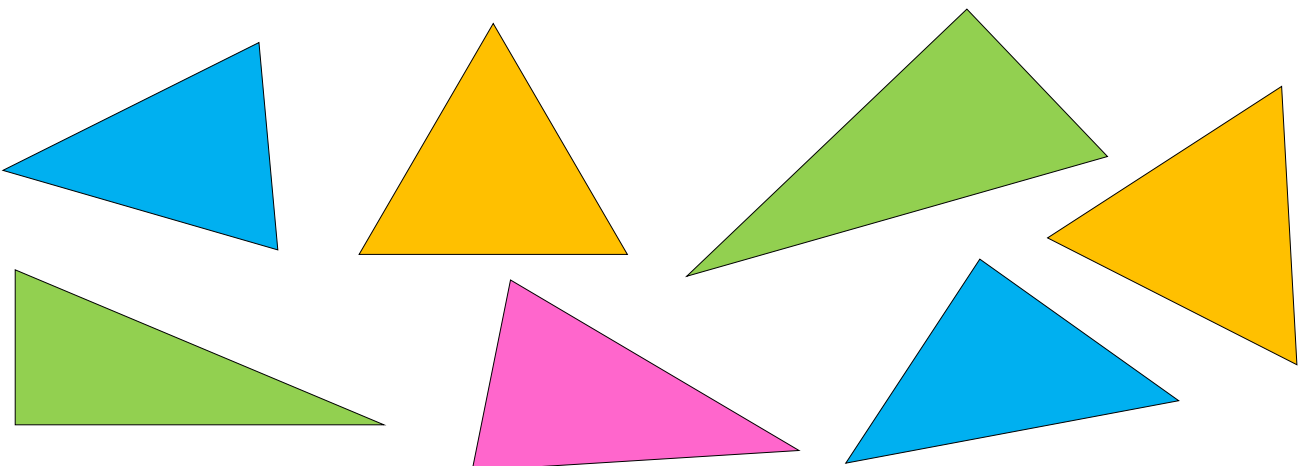


C'est un triangle **équilatéral** car il a **3 côtés égaux**.



C'est un triangle **rectangle** car il a **1 angle droit**.

3 Colorie les triangles isocèles en bleu, les triangles rectangles en vert, les triangles équilatéraux en jaune et les triangles quelconque en rose.



Ce document PDF gratuit à imprimer est issu de la page :

- [Exercices 5eme Harnos 5P Mathématiques : Géométrie Les triangles - PDF à imprimer](#)

Le lien ci-dessous vous permet de télécharger cet exercice avec un énoncé vierge

- [Identifier des triangles - Exercices : 5ème Harnos](#)

Découvrez d'autres exercices en : 5eme Harnos 5P Mathématiques : Géométrie Les triangles

- [Tracer un triangle rectangle ou un angle droit - Exercices de géométrie : 5ème Harnos](#)
- [Identifier les triangles - Exercices avec les corrigés : 5ème Harnos](#)
- [Tracer un triangle rectangle - Exercices, révisions : 5ème Harnos](#)
- [Identifier les triangles - Exercices, révisions : 5ème Harnos](#)
- [Triangle - Tracé - Vocabulaire - Exercices : 5ème, 6ème, 7ème Harnos](#)

Les exercices des catégories suivantes pourraient également vous intéresser :

- [Exercices 5eme Harnos 5P Mathématiques : Géométrie Cercle et disque - PDF à imprimer](#)
- [Exercices 5eme Harnos 5P Mathématiques : Géométrie Côté, sommet, angle - PDF à imprimer](#)
- [Exercices 5eme Harnos 5P Mathématiques : Géométrie Droites parallèles - PDF à imprimer](#)
- [Exercices 5eme Harnos 5P Mathématiques : Géométrie Droites perpendiculaires - PDF à imprimer](#)
- [Exercices 5eme Harnos 5P Mathématiques : Géométrie Point, droite et segment - PDF à imprimer](#)

Besoin d'approfondir en : 5eme Harnos 5P Mathématiques : Géométrie Les triangles

- [Leçons 5eme Harnos 5P Mathématiques : Géométrie Les triangles](#)
- [Evaluations 5eme Harnos 5P Mathématiques : Géométrie Les triangles](#)
- [Evaluations / compétences 5eme Harnos 5P Mathématiques : Géométrie Les triangles](#)
- [Evaluations / QCM QUIZ 5eme Harnos 5P Mathématiques : Géométrie Les triangles](#)
- [Vidéos pédagogiques 5eme Harnos 5P Mathématiques : Géométrie Les triangles](#)