

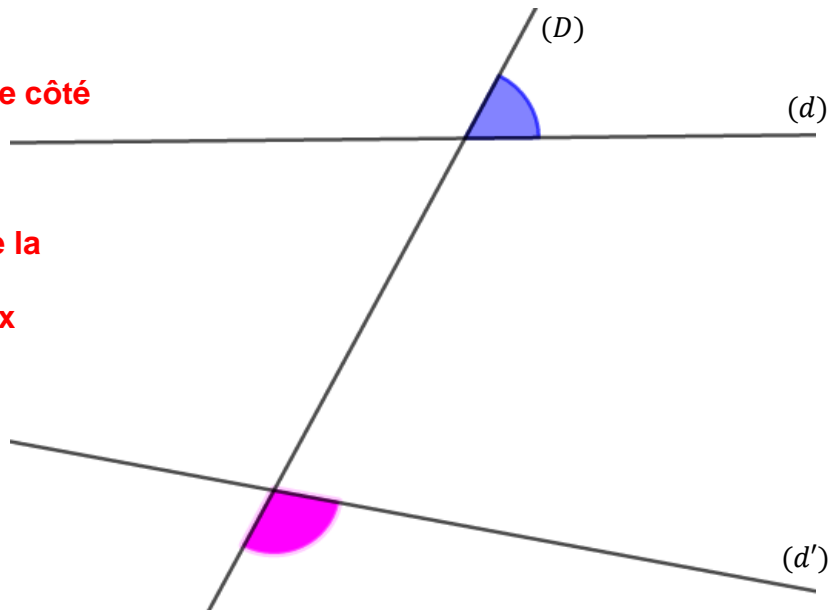
Chapitre 14 : Les angles

Exercices 2 : Reconnaître les angles correspondants : Corrigé

1. Dire si les angles tracés sont correspondants ou non en justifiant votre réponse.

Les angles ne sont pas correspondants car :

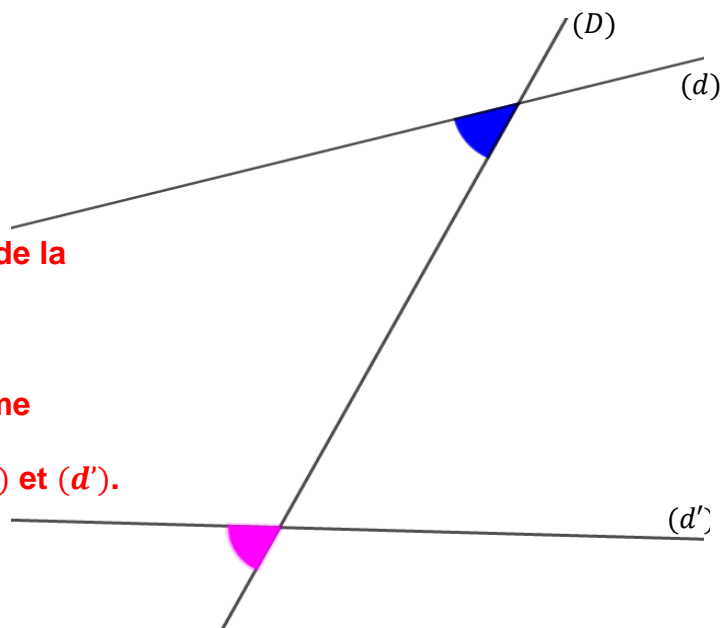
- S'ils sont bien situés du même côté de la droite (D) .
- Ils ne sont pas positionnés de la même manière par rapport aux droites (d) et (d') .



2. Dire si les angles tracés sont correspondants ou non en justifiant votre réponse.

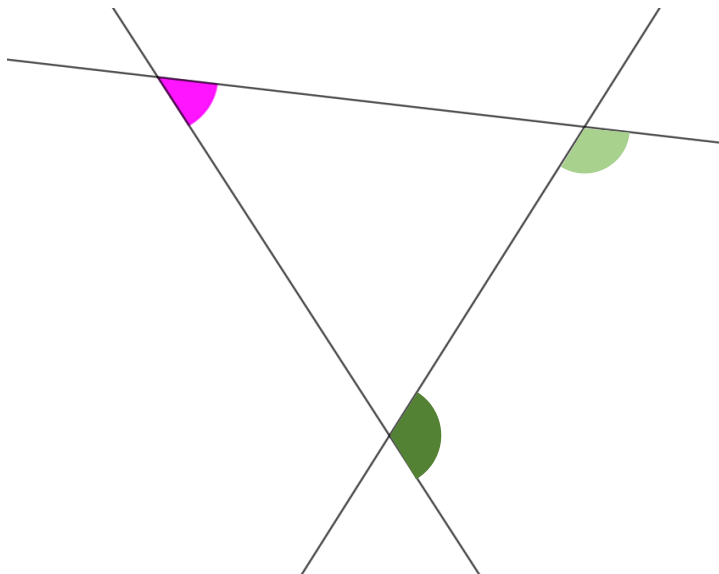
Les angles sont correspondants car :

- Ils sont bien situés du même côté de la droite (D) .
- Ils sont bien positionnés de la même manière par rapport aux droites (d) et (d') .

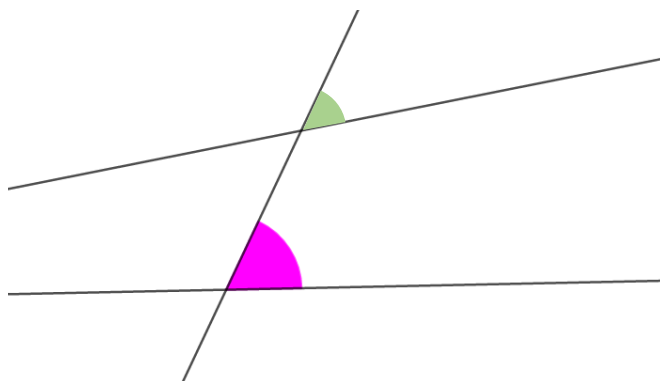


3. Sur cette figure, colorier en vert un second angle de façon à obtenir deux angles correspondants.

Il y a deux possibilités

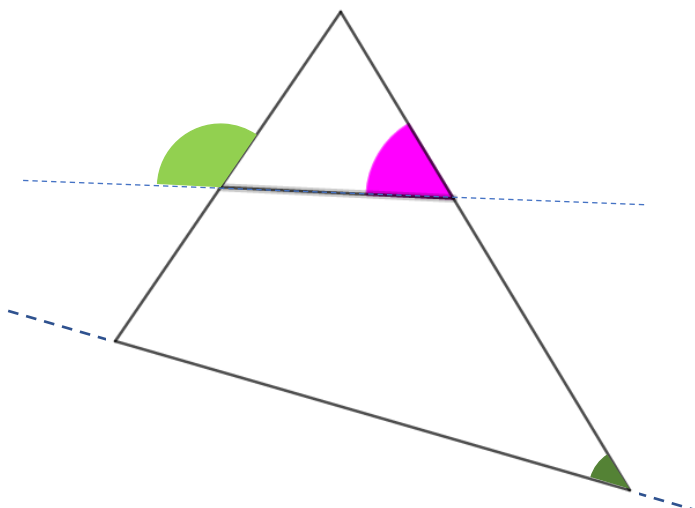


4. Sur cette figure, colorier en vert un second angle de façon à obtenir deux angles correspondants.



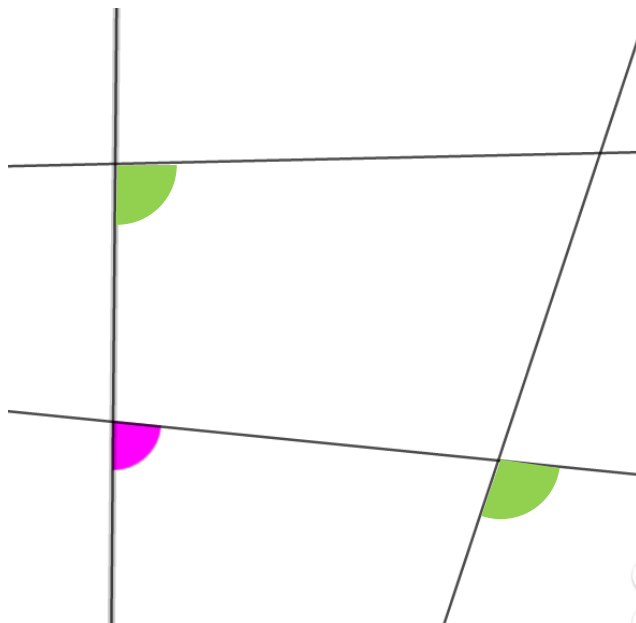
5. Sur cette figure, colorier en vert un second angle de façon à obtenir deux angles correspondants.

Il y a deux possibilités.



6. Sur cette figure, colorier en vert un second angle de façon à obtenir deux angles correspondants.

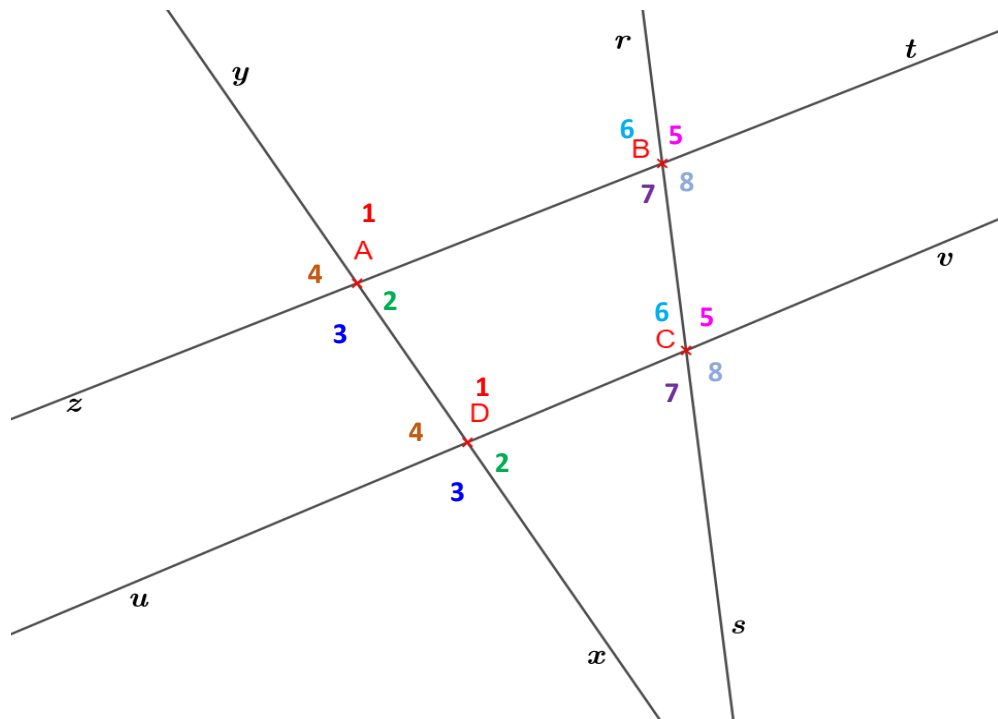
Il y a deux possibilités.



7. Dans la figure suivante, donner tous les couples d'angles correspondants.

Les couples d'angles correspondants sont :

1. \widehat{yAB} et \widehat{yDC}
2. \widehat{BAx} et \widehat{CDx}
3. \widehat{zAD} et \widehat{uDX}
4. \widehat{yAz} et \widehat{yDu}
5. \widehat{rCv} et \widehat{rBt}
6. \widehat{rBz} et \widehat{rCu}
7. \widehat{zBC} et \widehat{uCs}
8. \widehat{tBC} et \widehat{vCs}



Ce document PDF gratuit à imprimer est issu de la page :

- [Exercices 9eme Harnos 9e C.O Mathématiques : Géométrie Les angles Reconnaître les angles correspondants - PDF à imprimer](#)

Le lien ci-dessous vous permet de télécharger cet exercice avec un énoncé vierge

- [Reconnaître les angles correspondants - Exercices avec les corrections : 9eme Harnos](#)

Les exercices des catégories suivantes pourraient également vous intéresser :

- [Exercices 9eme Harnos 9e C.O Mathématiques : Géométrie Les angles Calculer un angle - PDF à imprimer](#)
- [Exercices 9eme Harnos 9e C.O Mathématiques : Géométrie Les angles Reconnaître des parallèles - PDF à imprimer](#)
- [Exercices 9eme Harnos 9e C.O Mathématiques : Géométrie Les angles Reconnaître les angles alternes internes - PDF à imprimer](#)
- [Exercices 9eme Harnos 9e C.O Mathématiques : Géométrie Les angles Angles complémentaires / supplémentaires - PDF à imprimer](#)

Besoin d'approfondir en : 9eme Harnos 9e C.O Mathématiques : Géométrie Les angles Reconnaître les angles

- [Cours 9eme Harnos 9e C.O Mathématiques : Géométrie Les angles Reconnaître les angles correspondants](#)
- [Evaluations 9eme Harnos 9e C.O Mathématiques : Géométrie Les angles Reconnaître les angles correspondants](#)
- [Vidéos pédagogiques 9eme Harnos 9e C.O Mathématiques : Géométrie Les angles Reconnaître les angles correspondants](#)
- [Vidéos interactives 9eme Harnos 9e C.O Mathématiques : Géométrie Les angles Reconnaître les angles correspondants](#)
- [Séquence / Fiche de prep 9eme Harnos 9e C.O Mathématiques : Géométrie Les angles Reconnaître les angles correspondants](#)